



Prueba de acceso a la Universidad de Extremadura Curso 2006-2007

Asignatura: GEOGRAFÍA DE ESPAÑA

Tiempo máximo de la prueba: 90 minutos

El alumno deberá elegir una de las dos opciones completas de examen, sin posibilidad de que se puedan combinar preguntas de ambos.

La puntuación total de cada una de las opciones será de 10 puntos, pudiendo modificarse en un punto la calificación final por la presentación, ortografía y calidad de redacción, a juicio del corrector.

OPCIÓN A

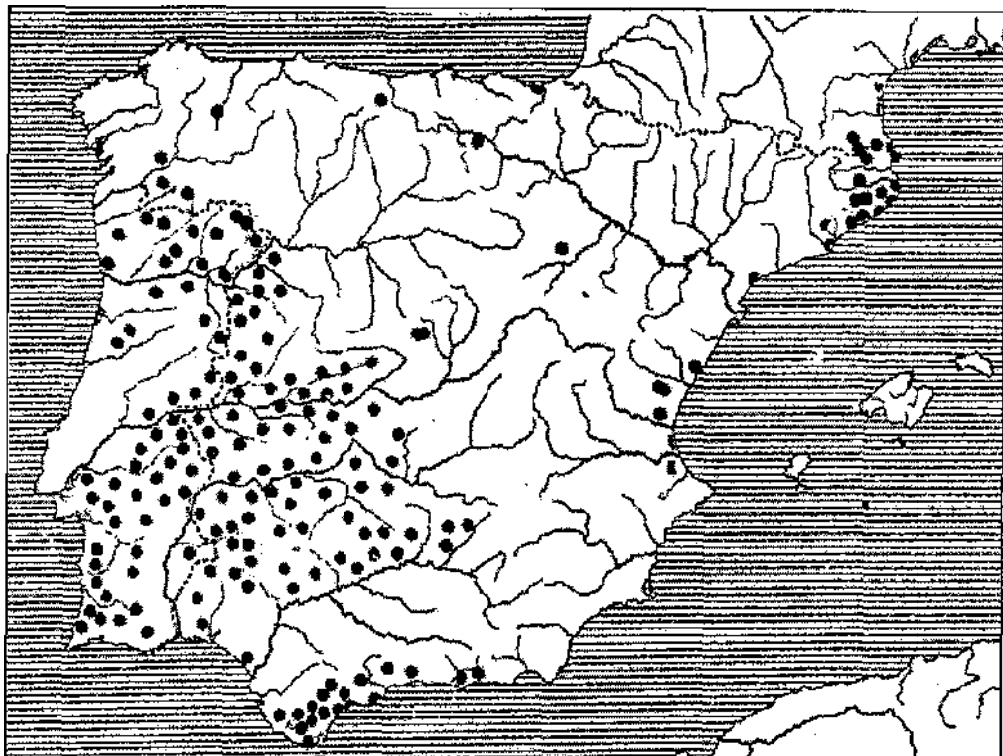
1.- Responda a uno de los temas siguientes:

A.- **Evolución geológica de la Península Ibérica**

B.- **El proceso de modernización de la agricultura y la ganadería españolas**

La respuesta se desarrollará, como máximo, en dos páginas, y se valorará con tres puntos.

2.- A la vista del siguiente mapa, en el que se representa la distribución del alcornocal en la Península Ibérica





Prueba de acceso a la Universidad de Extremadura Curso 2006-2007

Asignatura: GEOGRAFÍA DE ESPAÑA

Tiempo máximo de la prueba: 90 minutos

- a).- **Indique y comente los factores físicos que explican esta distribución**
- b).- **Realice un comentario acerca del paisaje agrario y de las actividades económicas relacionadas con el alcornoque**

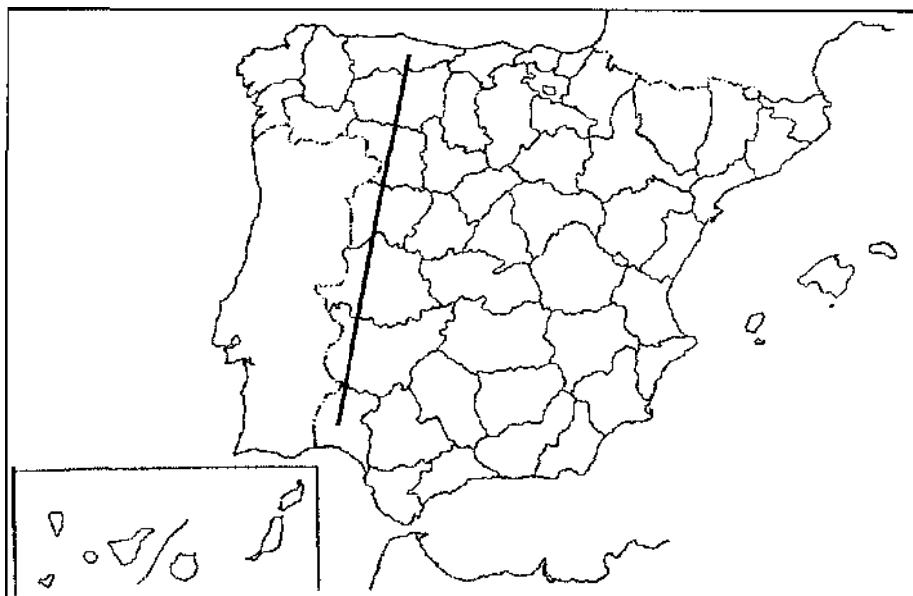
El comentario se desarrollará en la cara de un folio y se valorará con tres puntos.

3.- Defina brevemente los siguientes términos geográficos:

- Anticiclón
- Solana
- Parque Tecnológico
- Conurbación
- ZEPA

Cada una de las respuestas se valorará con 0,4 puntos, hasta un total de dos puntos.

4.- En uno de los folios del examen, relacione -de Norte a Sur- las provincias atravesadas por la línea, así como los sistemas montañosos y los ríos principales



La respuesta se valorará con un máximo de dos puntos.



Prueba de acceso a la Universidad de Extremadura Curso 2006-2007

Asignatura: GEOGRAFÍA DE ESPAÑA

Tiempo máximo de la prueba: 90 minutos

El alumno deberá elegir una de las dos opciones completas de examen, sin posibilidad de que se puedan combinar preguntas de ambos.

La puntuación total de cada una de las opciones será de 10 puntos, pudiendo modificarse en un punto la calificación final por la presentación, ortografía y calidad de redacción, ajuicio del corrector.

OPCIÓN B

1.- Responda a uno de los temas siguientes:

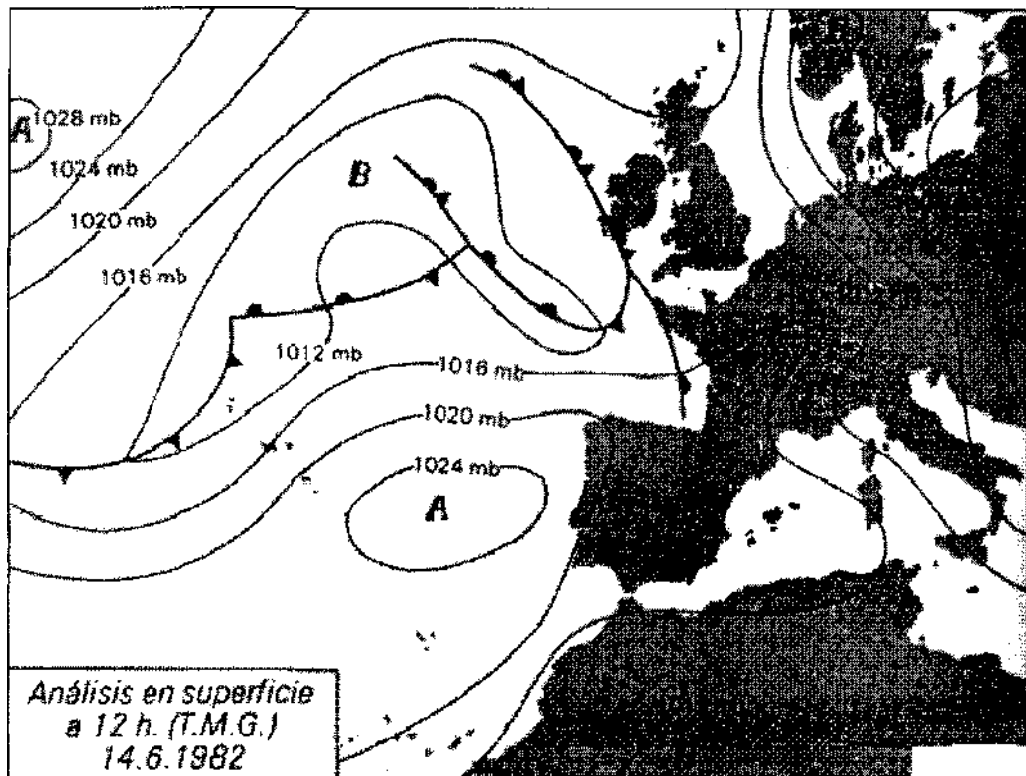
A.- **La singularidad geográfica de España.**

B.- **Crecimiento de las ciudades y proceso de urbanización en España.**

La respuesta se desarrollará, como máximo, en dos páginas, y se valorará con tres puntos.

2.-A la vista del siguiente mapa del tiempo:

:





Prueba de acceso a la Universidad de Extremadura Curso 2006-2007

Asignatura: GEOGRAFÍA DE ESPAÑA

Tiempo máximo de la prueba: 90 minutos

- a).- **Indique y defina los distintos elementos que componen este mapa del tiempo.**
b).- **Explique cuáles serán las características más destacadas del tiempo que se registrará en España según esta situación meteorológica.**

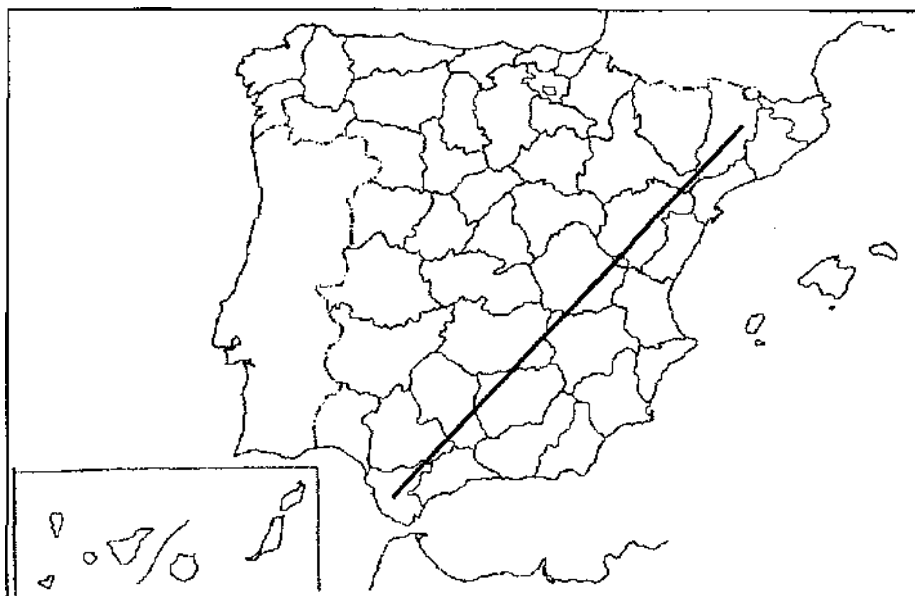
El comentario se desarrollará en la cara de un folio y se valorará con tres puntos.

3.- Defina brevemente los siguientes términos geográficos:

- Estilo tectónico
- Relieve cárstico
- Openfield
- Transición demográfica
- I.N.I.

Cada una de las respuestas se valorará con 0,4 puntos, hasta un total de dos puntos.

- 4.- **En uno de los folios del examen, relacione -de NE a SO- las provincias atravesadas por la línea, así como los sistemas montañosos y los ríos principales**



La respuesta se valorará con un máximo de dos puntos.