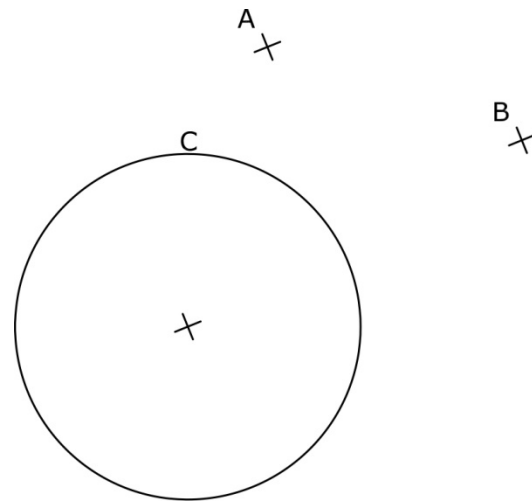


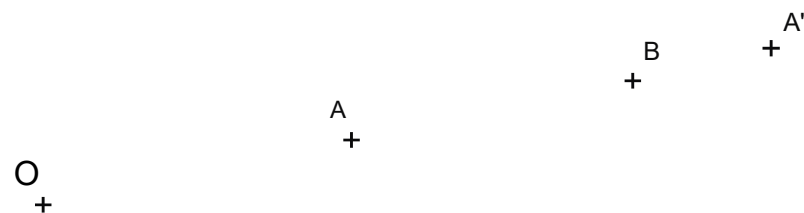
BLOQUE 1 . EJERCICIO 2. - TANGENCIA.- Dibuja las circunferencias tangentes a la circunferencia C dada y que pasen por los puntos A y B.

Indica CLARAMENTE tanto los puntos de tangencia como los centros de las circunferencias solución.



Puntuación máxima 2

BLOQUE 1 . EJERCICIO 3. -INVERSIÓN. Halla el inverso B' del punto B, conociendo el centro de inversión O y los puntos inversos A y A', alineados con B.



Puntuación máxima 2

Materia: **DIBUJOTÉCNICO**

Tiempo máximo de la prueba: 1h 30 min

INSTRUCCIONES PARA REALIZAR EL EXAMEN

El examen consta de **3 bloques de ejercicios**.

El **primer bloque** tiene una valoración de **6 puntos**. Consta de 6 ejercicios, de los cuales el estudiante ha de **elegir 3**, con un valor de **2 puntos cada uno** de ellos.

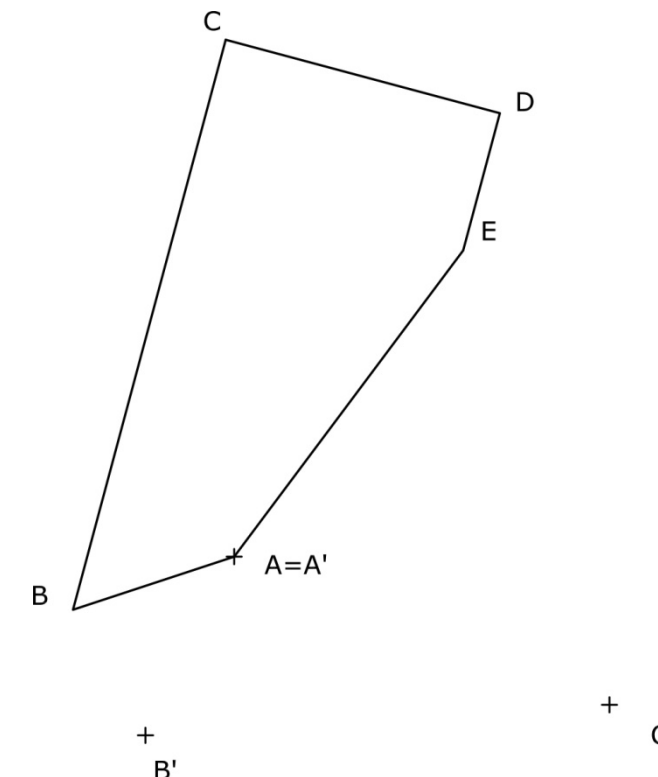
El **segundo bloque** tiene una valoración de **2 puntos**. Consta de 2 ejercicios, de los cuales el estudiante ha de **elegir 1**, con un valor de **2 puntos cada uno** de ellos.

El **tercer bloque** tiene una valoración de **2 puntos**. Consta de 2 ejercicios, de los cuales el estudiante ha de **elegir 1**, con un valor de **2 puntos cada uno** de ellos.

Es obligatorio realizar ejercicios de cada bloque para llegar a la puntuación máxima del examen (10).

Observación importante: en ningún caso se corregirá un número mayor de ejercicios de los indicados para cada bloque. Para la corrección se seguirá el orden en el que los ejercicios aparezcan desarrollados por el estudiante. Solo si el estudiante ha tachado alguno de ellos, se entenderá que ese ejercicio no debe ser corregido. En ese caso se le corregirá aquel que ocupase el correspondiente y lógico lugar del tachado, siempre y cuando pertenezca a su misma agrupación y en el orden de respuesta.

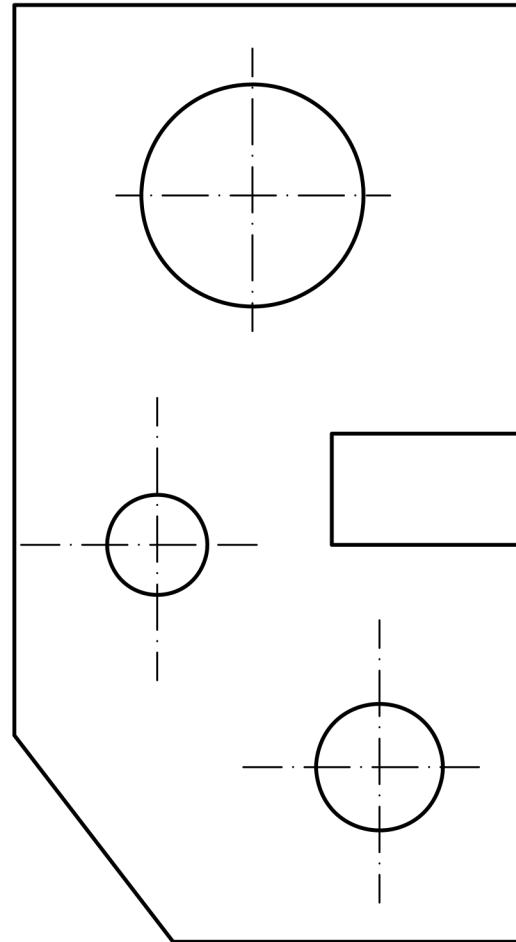
BLOQUE 1. EJERCICIO 1. - AFINIDAD. Halla la figura afín de la dada (ABCDE), sabiendo que el punto A es un punto doble y conociendo que los afines de B y C son B' y C' respectivamente.



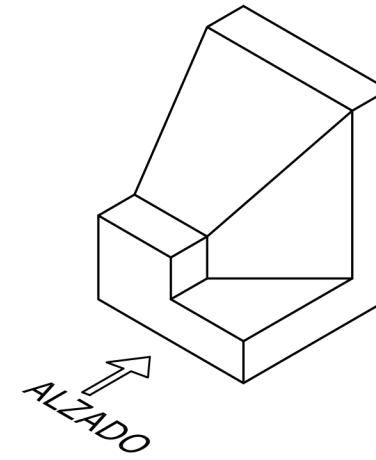
Puntuación máxima 2

El examen se realizará a lápiz. Se podrá utilizar regla graduada, escuadra, cartabón, goma de borrar y compás. No está permitido el uso de plantillas y calculadora.

BLOQUE 1. EJERCICIO 6. - ACOTACIÓN. Acota la pieza según normas UNE.

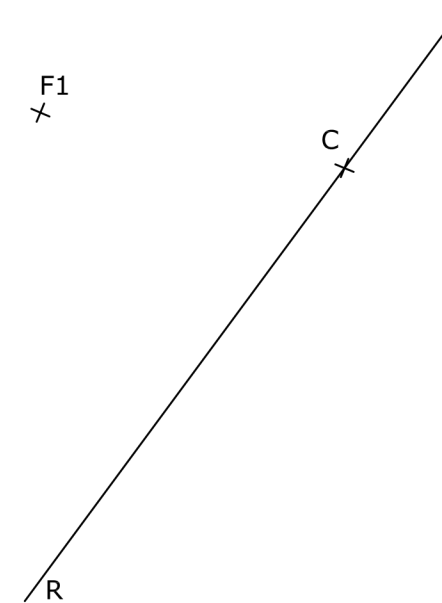


BLOQUE 1. EJERCICIO 4. - VISTAS. Dibuja a mano alzada las vistas (alzado, planta y perfil) de la pieza representada.




Puntuación máxima 2

BLOQUE 1. EJERCICIO 5. - ELIPSE. Conocidos un foco (F1) y un extremo del eje menor (C) de una elipse, así como la recta en la que está contenido el eje menor (R) de una elipse, se pide hallar el otro extremo del eje menor (D), el otro foco (F1), y el eje mayor (A) y (B).

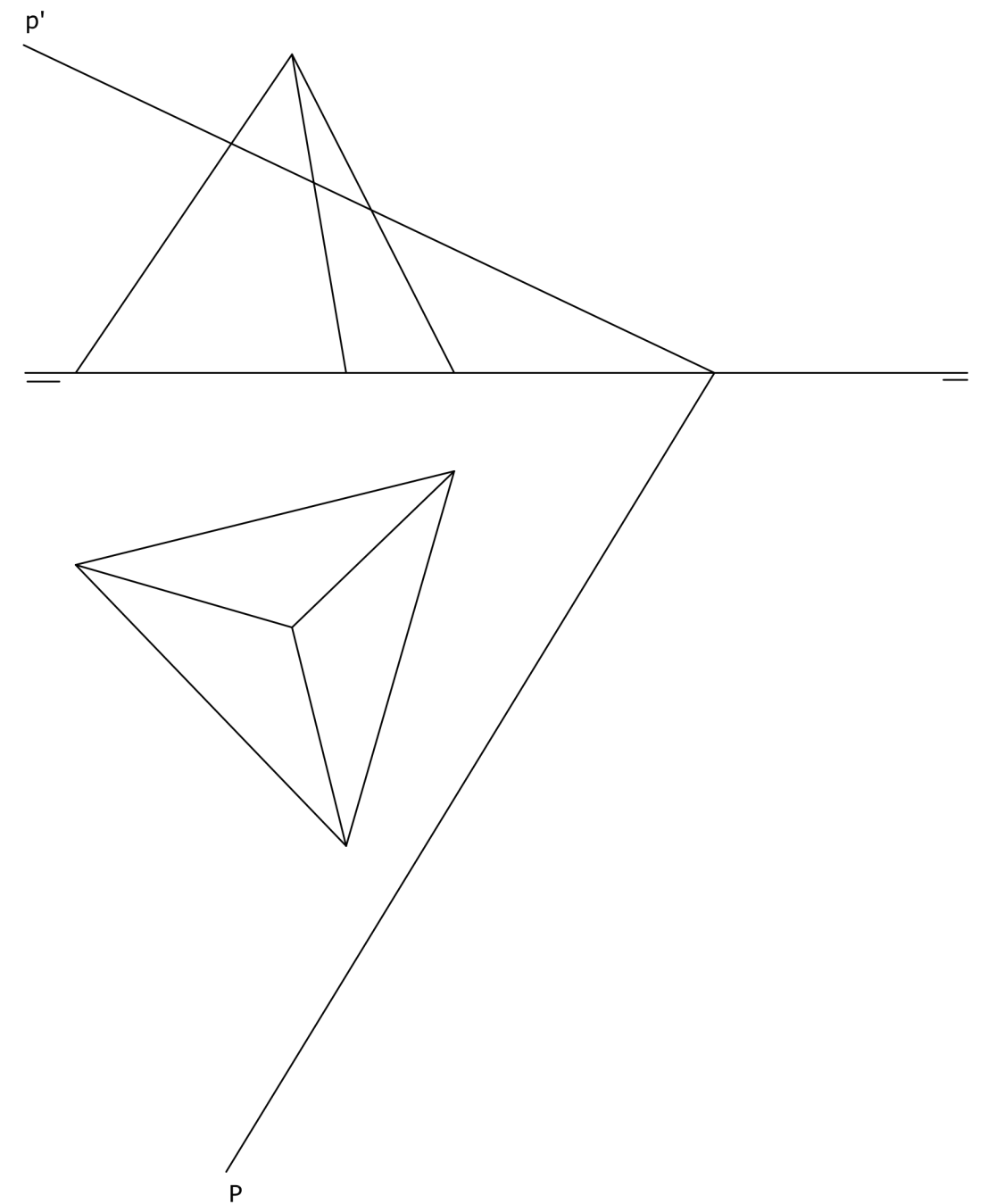


El examen se realizará a lápiz. Se podrá utilizar regla graduada, escuadra, cartabón, goma de borrar y compás. No está permitido el uso de plantillas y calculadora.

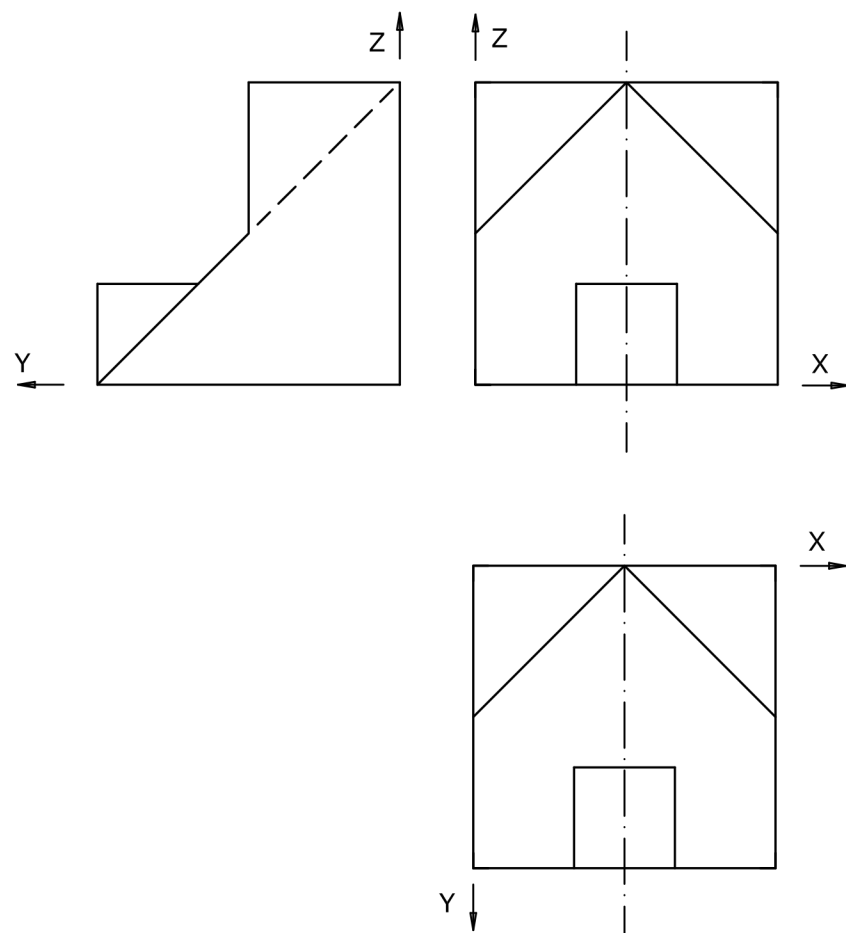
BLOQUE 2. EJERCICIO 2. - DIÉDRICO. Halla la distancia en verdadera magnitud desde el punto A a la recta R definida por los puntos B y C.



BLOQUE 2. EJERCICIO 1. - DIÉDRICO. Dibuja la sección producida por el plano P en el tetraedro representado. Dibuja la verdadera magnitud de la sección.



BLOQUE 3. EJERCICIO 2. - ISOMÉTRICO. Representa en PERSPECTIVA ISOMETRICA, a escala 3:2, la figura correspondiente a las proyecciones dadas. Calcula gráficamente y aplica en la representación los coeficientes de reducción.



BLOQUE 3. EJERCICIO 1. - ISOMÉTRICO. Representa en PERSPECTIVA ISOMETRICA, a escala 3:2, la figura correspondiente a las proyecciones. Calcula gráficamente y aplica en la representación los coeficientes de reducción.

