

INSTRUCCIONES PARA REALIZAR EL EXAMEN

- El examen está estructurado en **cuatro bloques de preguntas**. El **primero** de ellos consta de dos preguntas sobre temas geográficos a desarrollar, de las cuales el estudiante ha de **elegir una**. La puntuación máxima será de **2,5 puntos**.
- En el **segundo** bloque se presentan dos ejercicios prácticos, de los que el estudiante ha de **seleccionar y comentar uno**. La puntuación máxima es de **2,5 puntos**.
- El **tercer** bloque presenta dos grupos de términos geográficos. El estudiante debe **seleccionar uno de ellos** (3 para definir y 3 para identificar). La puntuación máxima será de **3 puntos**.
- El **cuarto** bloque consta de dos pares de mapas. El estudiante debe **complimentar uno de estos pares de mapas** (provincias y unidades de relieve, o provincias y ríos). La puntuación máxima será de **2 puntos**.
- **Todas las preguntas han de ser respondidas en el cuadernillo del examen, identificando claramente cada una de ellas con su número, aunque no necesariamente en el mismo orden.**
- **Es obligatorio responder a cuestiones de cada bloque** para llegar a la puntuación máxima del examen (10).
- **Observación importante:** en ningún caso se corregirá un número mayor de preguntas de las indicadas para cada bloque de preguntas. Para la corrección se seguirá el orden en el que las respuestas aparezcan desarrolladas por el estudiante. Solo si el estudiante ha tachado alguna de ellas, se entenderá que esa pregunta no debe ser corregida; en ese caso, se le corregirá aquella que ocupase el correspondiente y lógico lugar de la tachada, siempre y cuando pertenezca a su misma agrupación.

BLOQUE 1: TEMAS. (Puntuación máxima: 2,5 puntos)

Pregunta1. Responda a uno de los dos temas siguientes (redactando con orden, coherencia y claridad expositiva):

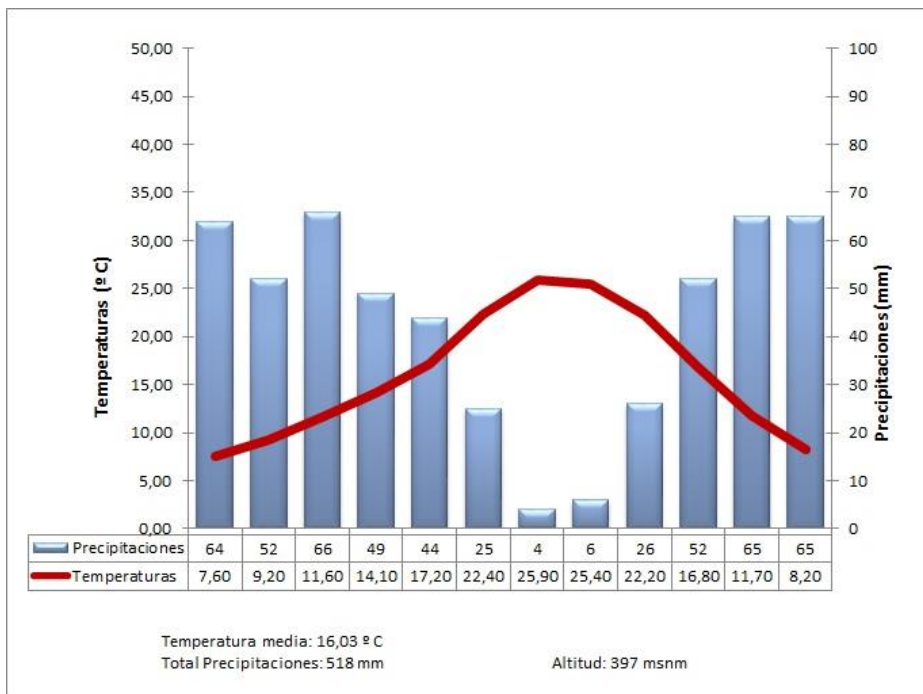
- a) **LAS AGUAS Y LA RED HIDROGRÁFICA.** Las vertientes hidrográficas. Uso y aprovechamiento de las aguas.
- b) **LAS ACTIVIDADES TURÍSTICAS.** Característica de la oferta turística española, tipos de turismo y su localización.

BLOQUE 2: EJERCICIOS PRÁCTICOS: (Puntuación máxima: 2,5 puntos)

Pregunta 2. Comente uno de los gráficos propuestos a continuación:

2.1. Analiza y comenta el siguiente climograma (2,5 puntos):

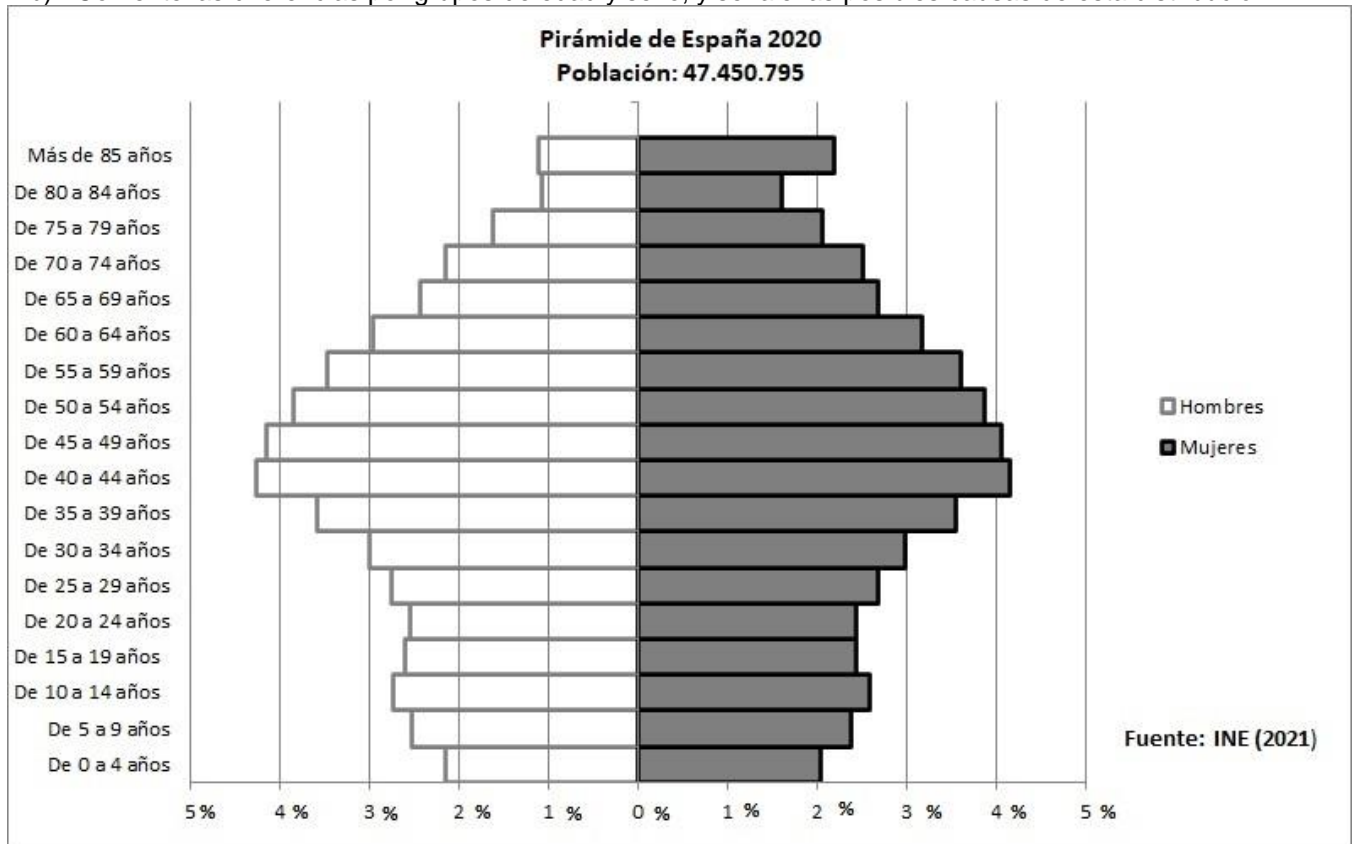
- a) Realice un análisis de los elementos termo-pluviométricos representados.
- b) Explique los principales factores climáticos que pueden influir en el mismo.
- c) Indique qué tipo de clima se trata y sus características principales.



2.2. A la vista de la siguiente **pirámide de población de España** (2,5 puntos):

a) Indique qué tipo de pirámide representa y sus características.

b) Comente las diferencias por grupos de edad y sexo, y señale las posibles causas de esta distribución.



BLOQUE 3. TÉRMINOS GEOGRÁFICOS. Responda a uno de los dos ejercicios siguientes (3 puntos)

Ejercicio 3.1

a.- Defina los siguientes conceptos geográficos (1,5 puntos):

- a.1) Red geográfica
- a.2) Balanza comercial
- a.3) Conurbación

b.- Identifique el término adecuado a cada una de las definiciones (1,5 puntos):

- b.1) Relación entre ciudades en las que unas, las centrales, organizan los flujos o relaciones que mantienen entre ellas, y otras, las periféricas, reciben estos flujos...
- b.2) Proceso de trasvase de la población activa del sector primario y secundario al terciario...
- b.3) Formación arbustiva, leñosa y densa, que aparece en las zonas de clima oceánico, de suelos pobres, donde predominan especies como el tojo, el brezo, el pino...

Ejercicio 3.2

a.- Defina los siguientes conceptos geográficos (1,5 puntos):

- a.1) Dehesa
- a.2) Efecto invernadero
- a.3) Ensanche

b.- Identifique el término adecuado a cada una de las definiciones (1,5 puntos):

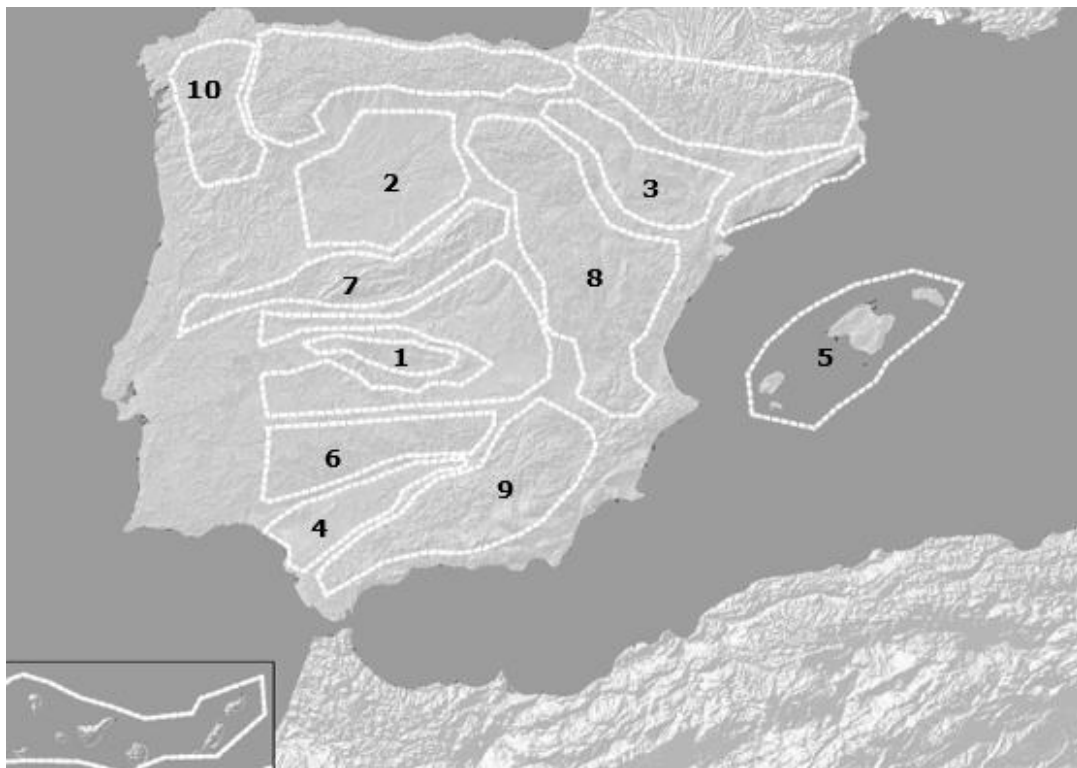
- b.1) Fenómeno relacionado con la expansión de los hielos sobre amplias zonas de la superficie terrestre...
- b.2) Sistema de cultivo que dedica todas las parcelas de una explotación agraria o todas las explotaciones a un único cultivo...
- b.3) Municipios situados en el entorno de una gran ciudad, que tiene una función esencialmente residencial. Sus habitantes se desplazan diariamente por motivos laborales, administrativos...

BLOQUE 4: MAPAS. Resuelva uno de los dos ejercicios propuestos (2 puntos)

Ejercicio 1.a: Identifique las diez provincias señaladas en el mapa (1 punto).



Ejercicio 1.b: Identifique las diez unidades del relieve señaladas en el mapa (1 punto).



Ejercicio 2.a: Identifique las diez provincias señaladas en el mapa (1 punto).



Ejercicio 2.b: Identifique los diez ríos señalados en el mapa (1 punto).

